

3-①	なんばんめ①		
がつ          にち    (      )		なまえ	

ぶんをよんで □をぬりましょう。

ひだりから3ばんめ

ひだり

みぎ

みぎから2ばんめ

ひだり

みぎ

ひだりから5ばんめ

ひだり

みぎ

3-②	なんばんめ②	
がつ	にち (     )	なまえ

ぶんをよんで □をぬりましょう。

みぎから3ばんめ

--	--	--	--	--	--

ひたから2ばんめ

--	--	--	--	--	--

みぎから4ばんめ

--	--	--	--	--	--

3-③	なんばんめ③		
がつ	にち	(      )	なまえ

ぶんをよんで　○、×、△をかきましょう。

うえから3ばんめに○をかきましょう。

したから4ばんめに×をかきましょう。

うえから4ばんめに△をかきましょう。

うえ

した

3-④	なんばんめ④		
がつ		にち (      )	なまえ

ぶんをよんで　○、×、△をかきましょう。

したから3ばんめに○をかきましょう。

うえから4ばんめに×をかきましょう。

したから4ばんめに△をかきましょう。

3-⑤	なんばんめ⑤	
がつ	にち (     )	なまえ

ぶんをよんで □をぬりましょう。

みぎから3こめ

--	--	--	--	--	--

ひだりから2こ

--	--	--	--	--	--

みぎから4こ

--	--	--	--	--	--

3-⑥	なんばんめ⑥		
がつ	にち	(      )	なまえ

ぶんをよんで ○、×、△をかきましょう。

まえ


ひだり
みぎ

うしろ

まえから2ばんめ ひだりから3ばんめに ○をかきましょう。

うしろから2ばんめ みぎから2ばんめに ×をかきましょう。

まえから4ばんめ みぎから3ばんめに △をかきましょう。

3-⑦	なんばんめ⑦		
がつ	にち	(      )	なまえ

ぶんをよんで ○、×、△をかきましょう。


まえから3ばんめ ひだりから2ばんめに ○をかきましょう。

うしろから3ばんめ みぎから2ばんめに ×をかきましょう。

まえから3ばんめ みぎから4ばんめに △をかきましょう。

3-⑧	なんばんめ⑧		
がつ		にち (     )	なまえ

□にすうじをうめましょう。

	○		×	△	
--	---	--	---	---	--

○はひだりから  ばんめにあります


×はみぎから  ばんめにあります

△はひだりから  ばんめにあります





3-⑨	あわせてかぞえましょう①	
がつ	にち (     )	なまえ

かぞえてすうじをかきましょう。

















3-⑩	あわせてかぞえましょう②	
がつ	にち (     )	なまえ

かぞえてすうじをかきましょう。

3-①	つぎのすうじ①		
がつ          にち    (      )		なまえ	

□のなかにすうじをかきましょう。

2のつぎのすうじは  です

3のつぎのすうじは  です

1のつぎのつぎのすうじは  です

2のつぎのつぎのすうじは  です

3-⑫	つぎのすうじ②		
がつ		にち (      )	なまえ

□のなかにすうじをかきましょう。

5のつぎのすうじは  です


7のつぎのすうじは  です

5のつぎのつぎのすうじは  です

8のつぎのつぎのすうじは  です

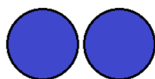
3-⑬	せんでおすびましょう①		
がつ          にち    (      )		なまえ	

○かずとすうじを    せんでおすびましょう。




•

• 2



•

• 1




•

• 3



•

• 5

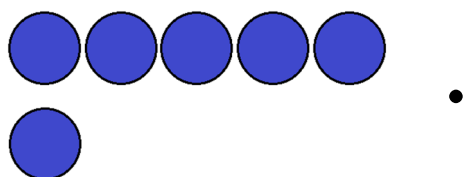


•

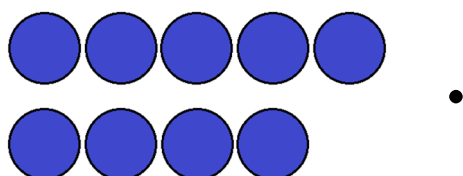
• 4

3-⑭	せんでおすびましょう②		
がつ          にち   (   )		なまえ	

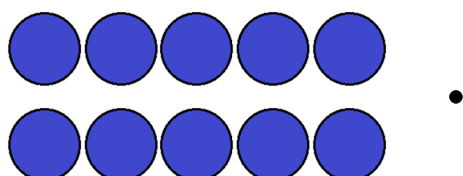
○かずとすうじを   せんでおすびましょう。



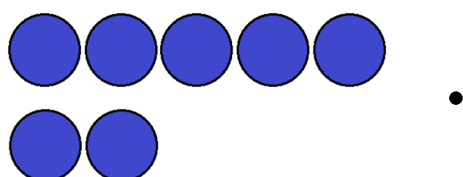
• 7



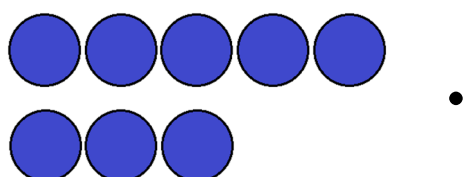
• 6



• 8





• 10

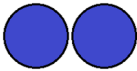





• 9

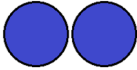
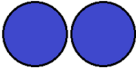
3-⑮	たしざん①		
がつ		にち (    )	なまえ


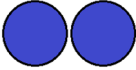
たしざんをしましょう。

			
1	+	1	=

			
2	+	1	=



			
1	+	3	=



			
2	+	2	=



			
3	+	2	=



3-⑩	たしざん②		
がつ          にち    (    )		なまえ	



たしざんをしましょう。

			
3	+	3	=

			
4	+	3	=

			
5	+	1	=

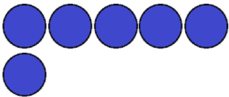

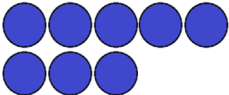

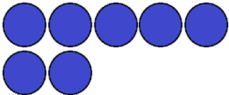

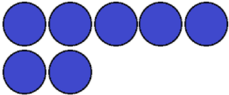

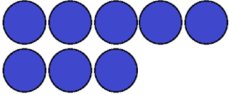

			
4	+	4	=

			
5	+	5	=



3-⑰	たしざん③		
がつ          にち   (   )		なまえ	

たしざんをしましょう。

 6	+	 2	=
 8	+	 1	=
 7	+	 3	=
 7	+	 2	=
 8	+	 2	=

3-⑱	たしざん④		
がつ	にち	(      )	なまえ

たしざんをしましょう。

$$2 + 1 =$$

$$1 + 4 =$$

$$2 + 2 =$$

$$2 + 3 =$$

$$3 + 1 =$$

3-⑱	たしざん⑤		
がつ	にち	(      )	なまえ

たしざんをしましょう。

$$4 + 2 =$$

$$3 + 4 =$$

$$5 + 3 =$$

$$3 + 3 =$$

$$5 + 5 =$$

3-②⑩	たしざん⑥		
がつ	にち	(      )	なまえ

たしざんをしましょう。

$$6 + 3 =$$

$$4 + 4 =$$

$$5 + 2 =$$

$$3 + 5 =$$

$$6 + 4 =$$