





4-①	しるしをしてへらしましょう①	
がつ	にち ()	なまえ


しるしをして こたえましょう。

		/	
2	—	1	=

		/	
3	—	1	=









		//	
3	—	2	=

		//	
4	—	2	=

		///	
4	—	3	=

4-②	しるしをしてへらしましょう②	
がつ にち ()		なまえ

しるしをして こたえましょう。

 	$6 - 1 =$
 	$8 - 2 =$
 	$7 - 3 =$
 	$10 - 3 =$

4-③	まえのすうじ①		
がつ にち ()		なまえ	

□のなかにすうじをかきましょう。

2のまえのすうじは です

3のまえのすうじは です

4の2つまえのすうじは です

5の2つまえのすうじは です

4-④	まえのすうじ②		
がつ にち ()		なまえ	

□のなかにすうじをかきましょう。

7のまえのすうじは

です

8のまえのすうじは

です

6の2つまえのすうじは






です

8の2つまえのすうじは

です

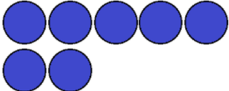


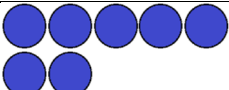
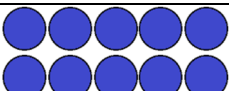
4-⑤	ひきざん①		
がつ		にち ()	なまえ

ひきざんをしましょう。

 3 − 1 =
 4 − 2 =
 5 − 2 =
 5 − 1 =
 5 − 3 =

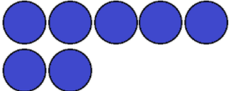

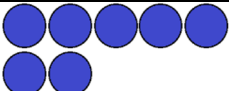

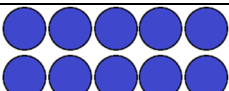
4-⑥	ひきざん②		
がつ にち ()		なまえ	

ひきざんをしましょう。

 7 — 1 =
 8 — 2 =
 9 — 4 =
 7 — 3 =
 10 — 3 =

4-⑦	ひきざん③	
がつ	にち ()	なまえ

ひきざんをしましょう。

 7 — 4 =
 8 — 6 =
 7 — 5 =
 9 — 6 =
 10 — 8 =

4-⑧	ひきざん④		
がつ	にち	()	なまえ

ひきざんをしましょう。

$$2 - 1 =$$

$$3 - 2 =$$

$$4 - 2 =$$

$$5 - 2 =$$

$$5 - 4 =$$

4-⑨	ひきざん⑤		
がつ	にち	()	なまえ

ひきざんをしましょう。

6	—	1	=
7	—	2	=
8	—	4	=
6	—	3	=
10	—	4	=

4-⑩	ひきざん⑥		
がつ にち ()		なまえ	

ひきざんをしましょう。

7	—	5	=
8	—	7	=
9	—	5	=
8	—	6	=
10	—	9	=

4-①	たしざんとひきざん①		
がつ	にち	()	なまえ

けいさんをしましょう。

$$3 + 1 =$$

$$3 - 2 =$$

$$2 + 2 =$$

$$5 - 3 =$$

$$3 + 2 =$$

4-⑫	たしざんとひきざん②		
がつ	にち	()	なまえ

けいさんをしましょう。

7	－	1	=
5	＋	2	=
9	－	4	=
6	＋	3	=
10	－	7	=

4-⑬	たしざんとひきざん③		
がつ	にち	()	なまえ

けいさんをしましょう。

5	+	3	=
9	-	6	=
2	+	8	=
8	-	5	=
5	+	3	=

4-⑭	たしざんとひきざん④		
がつ	にち	()	なまえ

けいさんをしましょう。

3	+	5	=
8	−	7	=
1	+	6	=
7	−	3	=
4	+	6	=

4-⑮	ぶんしょうもんだい①	
がつ	にち ()	なまえ

つぎのもんだいにこたえましょう。

りんごを3こもっています。りんごを2もらいました。

りんごは、ぜんぶでなんこになりますか。

こたえ

こ

りんごを4こもっています。りんごを2こたべました。

りんごは、なんこになりましたか。

こたえ

こ

4-⑩	ぶんしょうもんだい②		
がつ にち ()		なまえ	

つぎのもんだいにこたえましょう。

りんごを5こもっています。りんごを2あげました。

りんごは、なんこになりましたか。

こたえ

こ

りんごを2こもっています。りんごを2こもらいました。

りんごは、ぜんぶでなんこになりましたか。

こたえ

こ

4-⑰	ぶんしょうもんだい③		
がつ	にち	()	なまえ

つぎのもんだいにこたえましょう。

りんごが4こあります。 みかんは3こあります。

あわせるとぜんぶでなんこになりますか。

こたえ

りんごが6こあります。 みかんは2こあります。

こすうのちがいは、なんこですか。

こたえ

4-⑱	ぶんしょうもんだい④		
がつ	にち	()	なまえ

つぎのもんだいにこたえましょう。

あかぐみが8てんです。しろぐみは6てんです。

てんすうのちがいは、なんてんですか。

こたえ

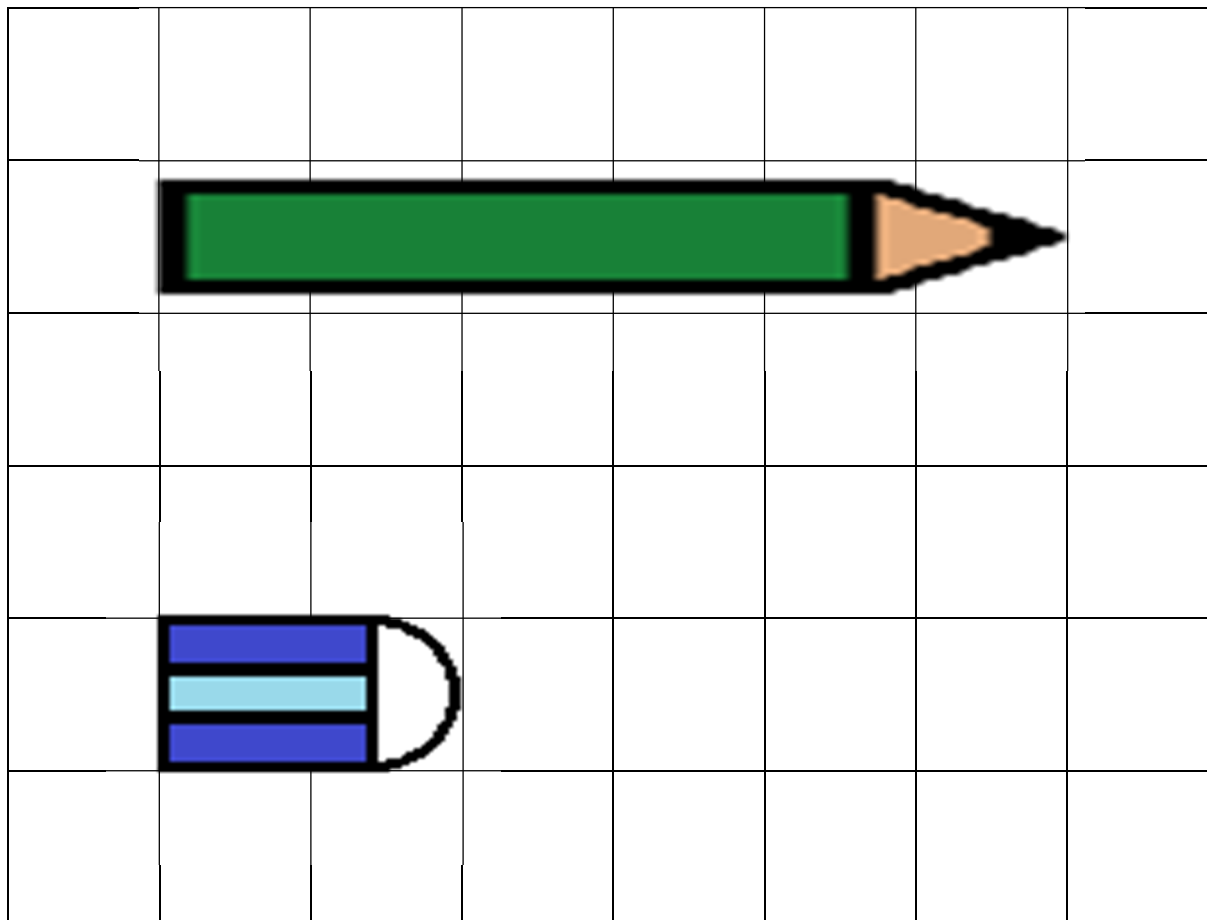
あかいかみが6まいあります。あおいかみは3まいあります。

あわせるとぜんぶでなんまいになりますか。

こたえ

4-⑳	ながさくらべ②	
がつ にち ()		なまえ

よこのながさを しらべましょう。



えんぴつ → ます

けしごむ → ます