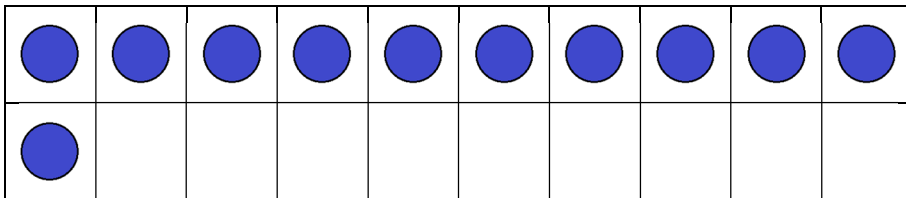
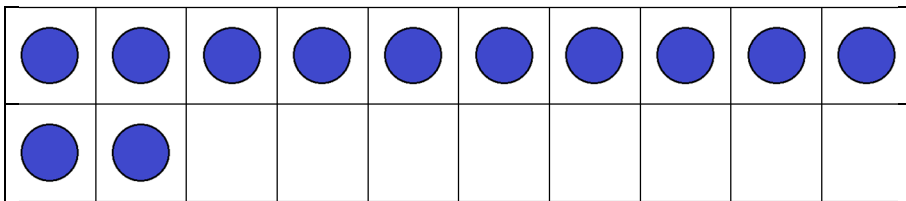


6-①	20までのかず①	
がっ	にち ()	なまえ

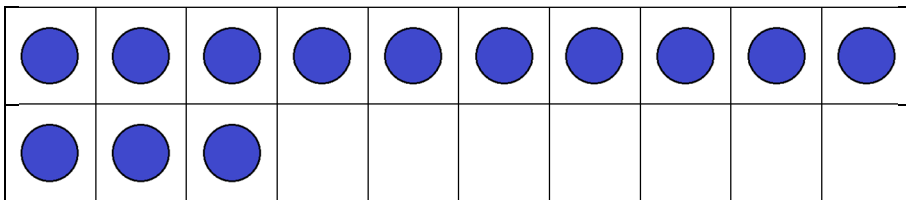
すうじをなぞりましょう。



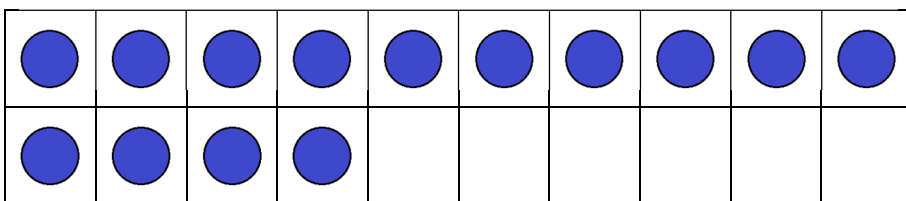
11



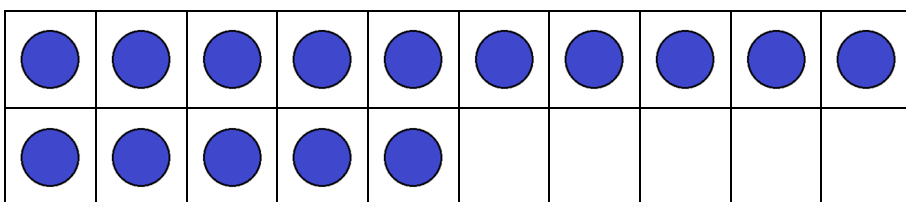
12



13



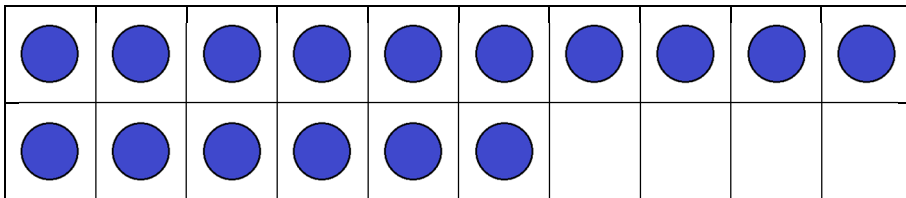
14



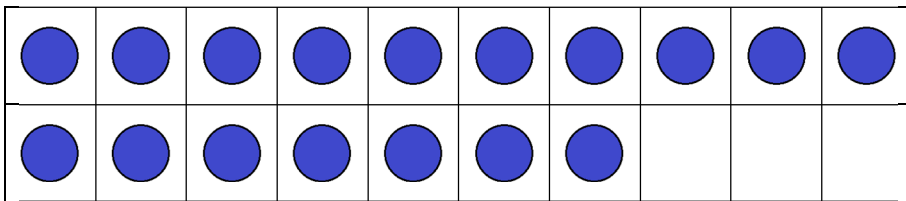
15

6-①	20までのかず①	
がつ	にち ()	なまえ

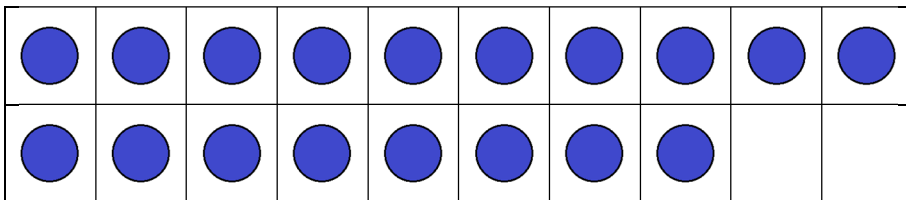
すうじをなぞりましょう。



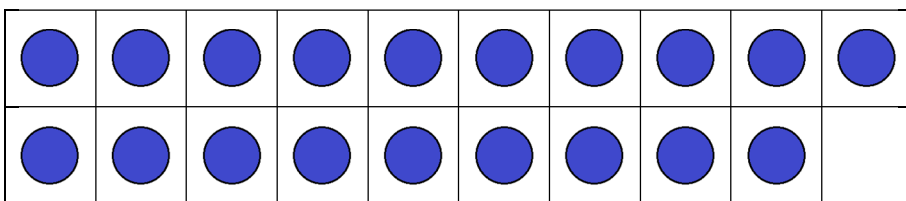
16



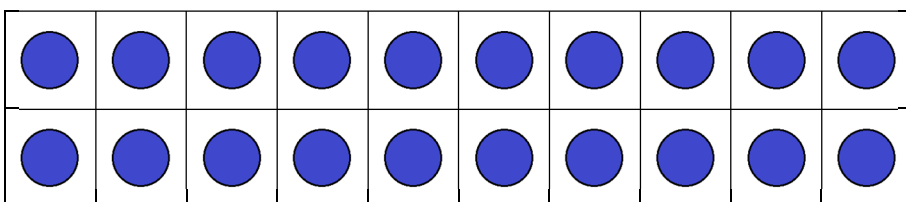
17



18



19



20

6-②	20までのかず②
がっ にち ()	なまえ

□のなかにすうじをかきましょう。

<p style="text-align: center;">12</p>	<p style="text-align: center;">14</p>
<p style="text-align: center;">15</p>	<p style="text-align: center;">13</p>
<p style="text-align: center;">16</p>	<p style="text-align: center;">17</p>

6-③	20までのかず③		
がっ		にち ()	なまえ

かずがおおいほうに○をしましょう。

<p>8</p> <p><input type="checkbox"/></p>	<p>12</p> <p><input type="checkbox"/></p>	<p>9</p> <p><input type="checkbox"/></p>	<p>13</p> <p><input type="checkbox"/></p>
<p>11</p> <p><input type="checkbox"/></p>	<p>10</p> <p><input type="checkbox"/></p>	<p>11</p> <p><input type="checkbox"/></p>	<p>17</p> <p><input type="checkbox"/></p>
<p>12</p> <p><input type="checkbox"/></p>	<p>14</p> <p><input type="checkbox"/></p>	<p>18</p> <p><input type="checkbox"/></p>	<p>17</p> <p><input type="checkbox"/></p>
<p>20</p> <p><input type="checkbox"/></p>	<p>12</p> <p><input type="checkbox"/></p>	<p>19</p> <p><input type="checkbox"/></p>	<p>20</p> <p><input type="checkbox"/></p>

6-④	20までのかず④	
がつ	にち ()	なまえ

□のなかにすうじをかきましょう。

10	11	12		14	15
----	----	----	--	----	----

12	13		15	16		18
----	----	--	----	----	--	----

12		14	15		17	18	
----	--	----	----	--	----	----	--

	12	13		15	16		18	19
--	----	----	--	----	----	--	----	----

12			15	16			19	20
----	--	--	----	----	--	--	----	----

6-⑤	20までのかず⑤
がっ	にち () なまえ

□のなかにすうじをかきましょう。

12のつぎのかずは です

15より2おおきいかずは です

18の2つまえのすうじは です

17より4ちいさいかずは です

16より4おおきいかずは です

6-⑥	20までのかずのけいさん(くりあがり・くりさがりなし)①	
がつ	にち ()	なまえ

けいさんをしましょう。

$10 + 4$

$13 - 3$

$13 + 2$

$16 - 2$

$15 + 3$

$15 - 3$

$12 + 7$

$19 - 4$

$14 + 4$

$17 - 6$

6-⑦	20までのかずのけいさん(くりあがり・くりさがりなし)②
がつ	にち () なまえ

けいさんをしましょう。

$13 + 4$

$14 - 2$

$15 - 2$

$16 + 2$

$10 + 6$

$17 - 5$

$18 - 8$

$11 + 7$

$13 + 5$

$18 - 6$

6-⑧	20 よりおおきいかず①
がつ	にち () なまえ

あわせたかずを□のなかにかきましょう。

→

→

→

→

→

6-②	20 よりおおきいかず②
がっ にち ()	なまえ

□のなかにすうじをかきましょう。

10 が3つで □ です

10 が2つ と 1が6つで □ です

40 は、10 を □ つあわせたものです

23 は、10 を □ つと 1を □ つあわせたものです

36 は、10 を □ つと 1を □ つあわせたものです

6-⑩	20 よりおおきいかず③	
がっ にち ()	なまえ	

かずがおおいほうに○をしましょう。

<div style="display: flex; justify-content: space-around; align-items: center;"> <div style="text-align: center;">30 <input type="checkbox"/></div> <div style="text-align: center;">37 <input type="checkbox"/></div> </div>	<div style="display: flex; justify-content: space-around; align-items: center;"> <div style="text-align: center;">39 <input type="checkbox"/></div> <div style="text-align: center;">32 <input type="checkbox"/></div> </div>
<div style="display: flex; justify-content: space-around; align-items: center;"> <div style="text-align: center;">47 <input type="checkbox"/></div> <div style="text-align: center;">46 <input type="checkbox"/></div> </div>	<div style="display: flex; justify-content: space-around; align-items: center;"> <div style="text-align: center;">24 <input type="checkbox"/></div> <div style="text-align: center;">42 <input type="checkbox"/></div> </div>
<div style="display: flex; justify-content: space-around; align-items: center;"> <div style="text-align: center;">28 <input type="checkbox"/></div> <div style="text-align: center;">38 <input type="checkbox"/></div> </div>	<div style="display: flex; justify-content: space-around; align-items: center;"> <div style="text-align: center;">19 <input type="checkbox"/></div> <div style="text-align: center;">31 <input type="checkbox"/></div> </div>

6-⑪	50までのかず①	
がつ	にち ()	なまえ

□のなかにすうじをかきましょう。

げつ	か	すい	もく	きん	ど	にち
				1	2	3
4	5		7	8	9	
11		13	14		16	17
	19	20		22	23	24
25	26	27	28			31

6-⑫	50までのかず②								
がっ				にち ()		なまえ			

□のなかにすうじをかきましょう。

1	2	3	4		6	7		9	10
11	12		14	15	16		18	19	20
21	22	23			26	27	28	29	
31	32	33	34	35		37	38		40
	42	43	44		46	47	48		50

6-⑬	50までのかず③	
がつ	にち ()	なまえ

□のなかにすうじをかきましょう。

21	22		24	25	26	27
----	----	--	----	----	----	----

40	39	38		36	35		33
----	----	----	--	----	----	--	----

32	34	36		40	42	44		48
----	----	----	--	----	----	----	--	----

	23	25	27		31	33		37	
--	----	----	----	--	----	----	--	----	--

34	32		28	26			20		16
----	----	--	----	----	--	--	----	--	----