

6月①	ながさのたんい⑦
月 日 ()	名まえ

つぎのけいさんをしましょう。

$$3 \text{ cm } 4 \text{ mm} + 2 \text{ cm}$$

$$4 \text{ cm } 2 \text{ mm} + 5 \text{ mm}$$

$$3 \text{ cm} + 5 \text{ cm } 2 \text{ mm}$$

$$8 \text{ cm } 9 \text{ mm} - 4 \text{ cm}$$

$$6 \text{ cm } 7 \text{ mm} - 5 \text{ mm}$$

6月②	ながさのたんい⑧
月 日 ()	名まえ

つぎのけいさんをしましょう。

$$6 \text{ cm } 5 \text{ mm} - 3 \text{ cm}$$

$$2 \text{ cm } 4 \text{ mm} + 4 \text{ mm}$$

$$8 \text{ cm } 6 \text{ mm} - 3 \text{ mm}$$

$$5 \text{ cm } 8 \text{ mm} - 2 \text{ cm}$$

$$2 \text{ cm} + 7 \text{ cm } 3 \text{ mm}$$

6月③	3けたの数①	
月	日 ()	名まえ

□の中に^{すうじ}数字をうめましょう。

365 の百のくらいの数字は で、

十のくらいの数字は で、

一のくらいの数字は です。

百のくらいの数字が2で、十のくらいの数字が5で、

一のくらいの数字が4の^{かず}数は です。

6月④	3けたの数②	
月	日 ()	名まえ

□の中に^{すうじ}数字をうめましょう。

724 は、100 を こ、 10 を こ、

1 を こ あわせた^{かず}数です。

650 は、100 を こ、 10 を こ

あわせた数です。

100 を 2 こ、10 を 7 こ、1 を 6 こあつめた数は、

です。

6月⑤	3けたの数③	
月	日 ()	名まえ

724は、かん字で 七百二十四 とかきます。

つぎの^{すうじ}数字をかん字でかきましょう。

532

625

849

6月⑥	3けたの数④
月 日 ()	名まえ

つぎの^{すうじ}数字をかん字でかきましょう。

754

836

240

502

6月⑦	3けたの数⑤
月 日 ()	名まえ

七百二十四は、^{すうじ}数字で 724 とかきます。

つぎの^{かず}数を数字でかきましょう。

五百二十七

四百九十三

六百八十二

6月⑧	3けたの数⑥
月 日 ()	名まえ

かず すうじ
つぎの数を数字でかきましょう。

二百五十八

九百四十三

五百二十

六百七

6月⑨	3けたの数⑦
月 日 ()	名まえ

365 は、300 と 60 と 5 をあわせた^{かず}数です。

↓ この文をしきであらわすと、

$$365 = 300 + 60 + 5 \quad \text{となります。}$$

つぎの文をしきであらわしましょう。

623 は、600 と 20 と 3 をあわせた数です。

200 と 40 と 5 をあわせた数は、245 です。

6月⑩	3けたの数⑧
月 日 ()	名まえ

つぎの文をしきであらわしましょう。

700 と 30 と4をあわせた数は、734 です。

465 は、400 と 60 と5をあわせた数です。

800 と7をあわせた数は、807 です。

6月①	3けたの数⑨
月 日 ()	名まえ

10 を 10 こあわせると 100 になります。

10 を 12 こあわせると 120 になります。

つぎのもんだいにこたえましょう。

10 を 14 こあわせた^{かず}数はいくつですか。

170 は、10 をいくつあつめた数ですか。

6月⑫	3けたの数⑩
月 日 ()	名まえ

つぎのもんだいにこたえましょう。

10 を 16 こあわせた^{かず}数はいくつですか。

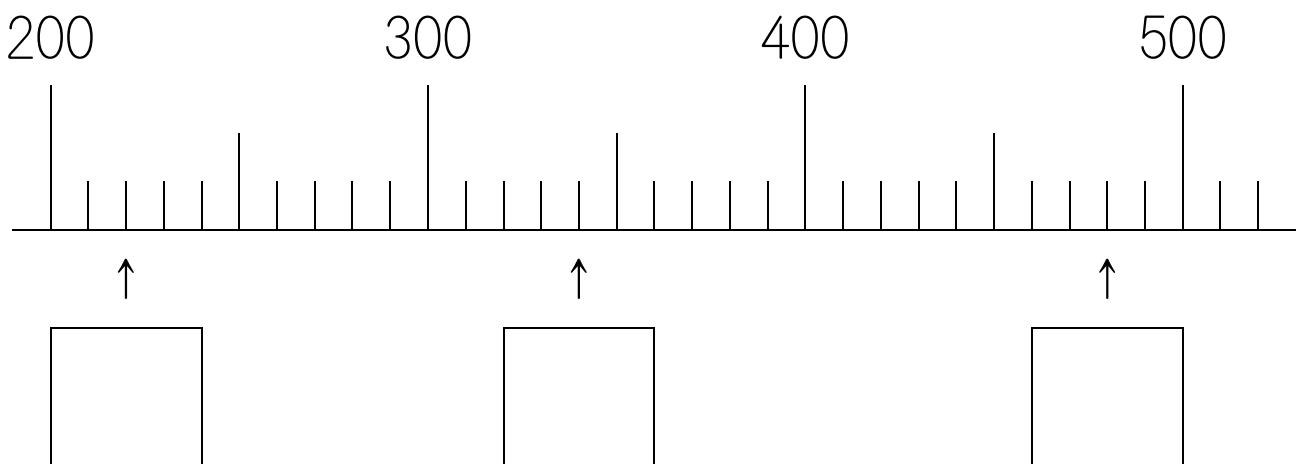
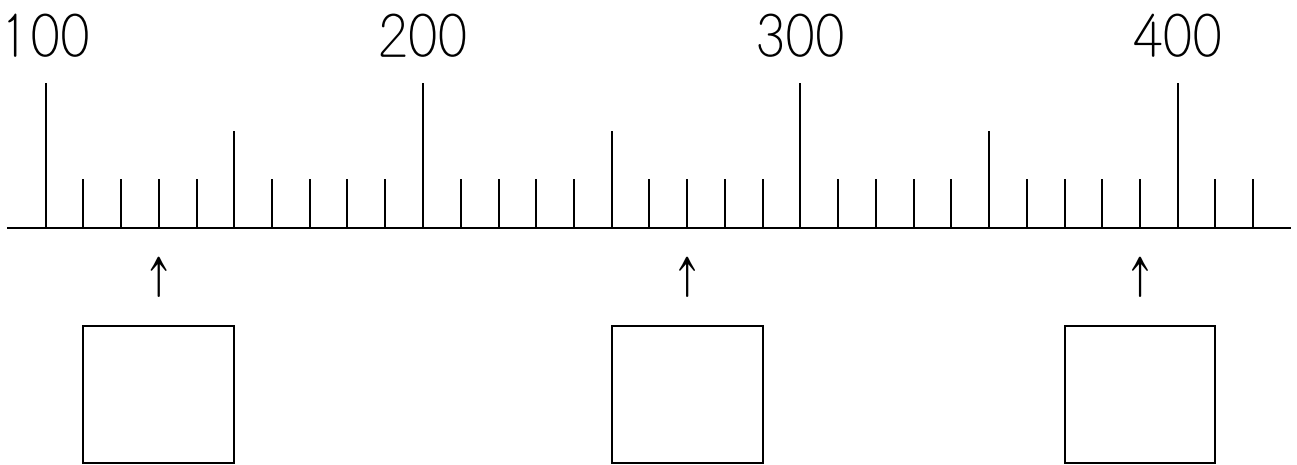
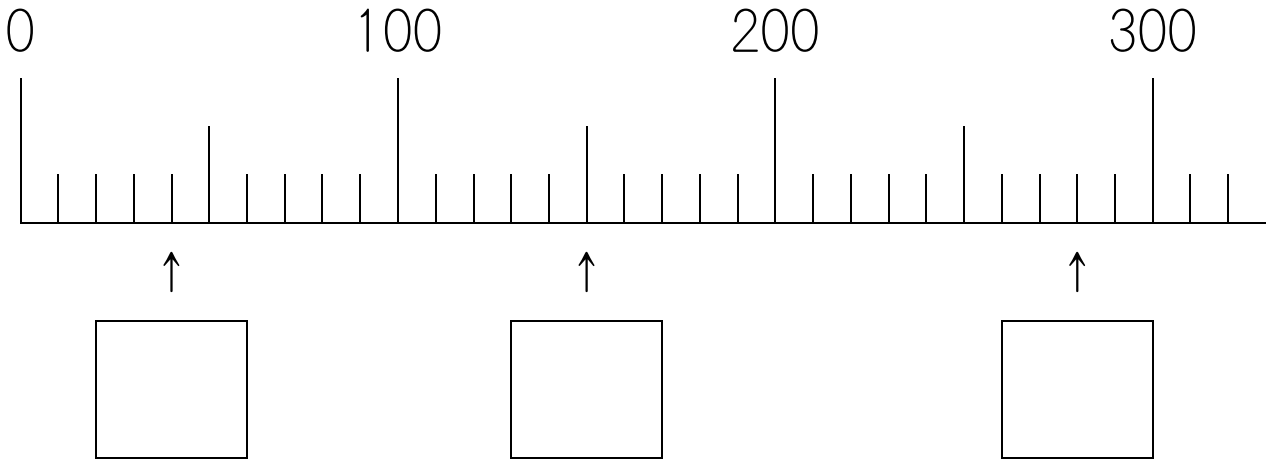
230 は、10 をいくつあつめた数ですか。

10 を 34 こあわせた数はいくつですか。

6月⑬	3けたの数⑪
-----	--------

月	日 ()	名まえ
---	-------	-----

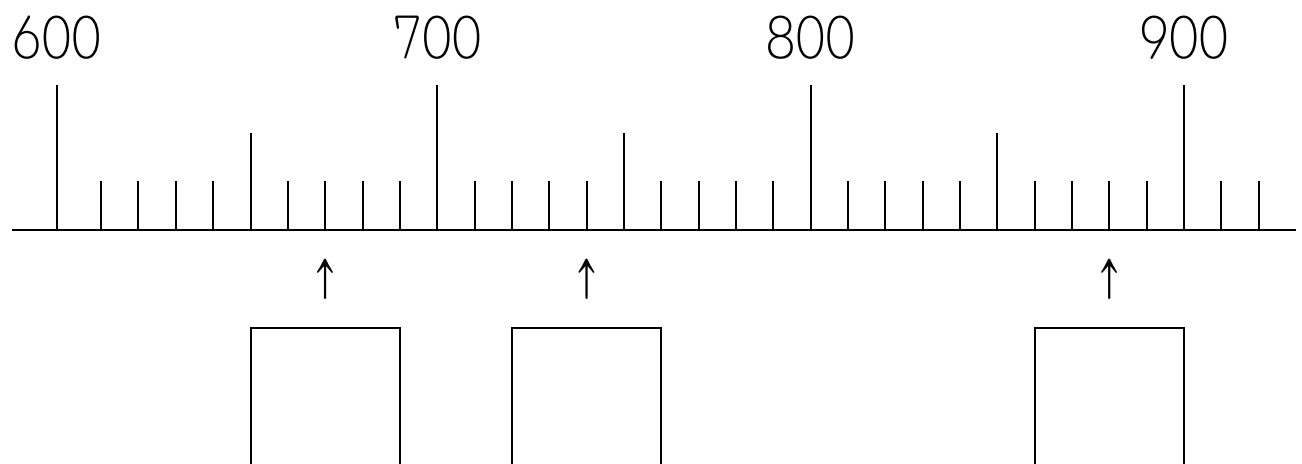
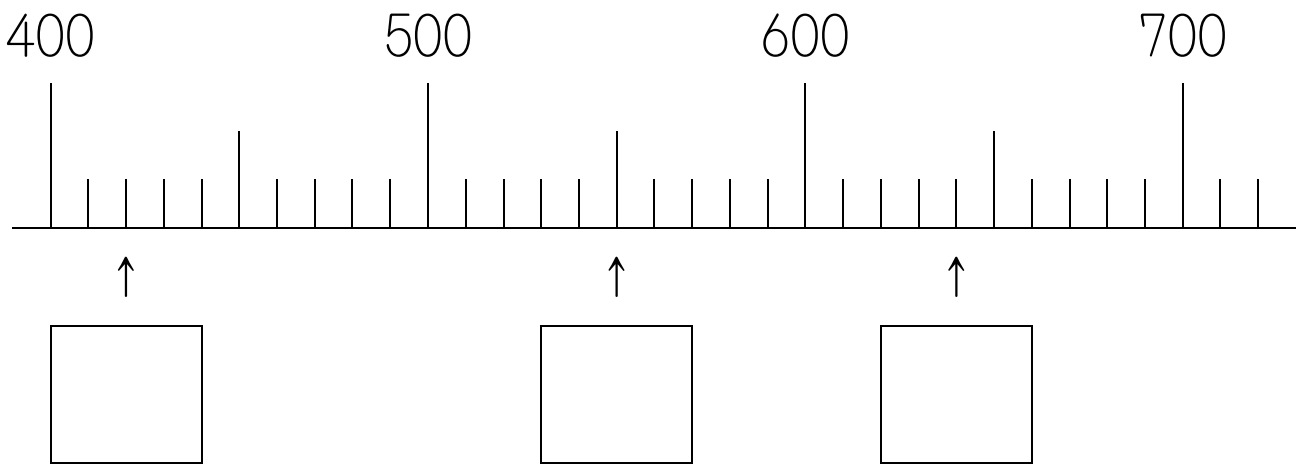
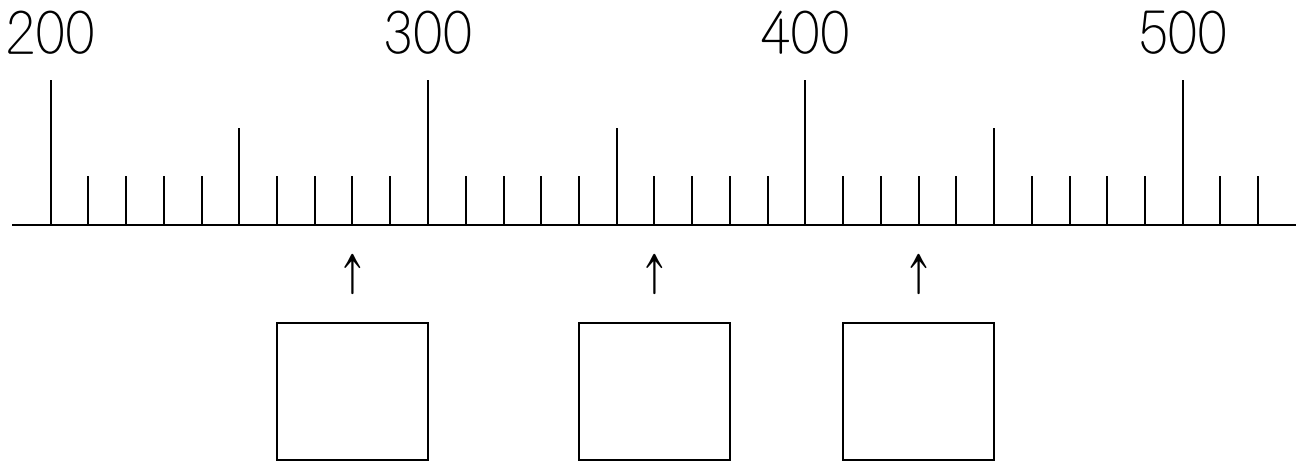
□の中に^{すうじ}数字をうめましょう。



6月⑭	3けたの数⑫
-----	--------

月	日 ()	名まえ
---	-------	-----

□の中に^{すうじ}数字をうめましょう。



6月⑮	3けたの数⑬
月 日 ()	名まえ

つぎのけいさんをしましょう。

$60 + 70$

$90 + 50$

$110 - 40$

$130 - 50$

$300 + 400$

$800 - 500$

$200 + 40$

$360 - 60$

$800 + 7$

$604 - 4$

6月⑩	3けたの数⑭
月 日 ()	名まえ

つぎのけいさんをしましょう。

$30 + 90$

$50 + 80$

$140 - 70$

$120 - 80$

$900 - 300$

$400 + 500$

$400 + 30$

$670 - 70$

$308 - 8$

$500 + 3$

6月⑰	数の大小①	
月	日 ()	名まえ

20 < 50 、 600 > 300 のように
「<」 や 「>」 は、大きい^{かず}数のほうに
ひらいているほうをむけます

□の中に「<」か「>」をうめましょう。

30 80

120 102

500 300

703 730

283 238

527 529

6月⑩	数の大小②	
月	日 ()	名まえ

100 = 30 + 70、40 + 80 = 120 のように
「=」は、左と右がおなじになるときにつかいます

□の中に「<」か「>」か「=」をうめましょう。

$$150 \quad \square \quad 100 + 20$$

$$230 \quad \square \quad 200 + 30$$

$$500 + 8 \quad \square \quad 580$$

6月⑩	水のかさのたんい①		
月 日 ()		名まえ	

「L」と「dL」をかくれんしゅうをしましょう。

L (リットルとよみます)

L	L	L		
---	---	---	--	--

dL (デシリットルとよみます)

dL	dL	dL		
----	----	----	--	--

6月⑩	水のかさのたんい②	
月 日 ()	名まえ	

□の中に「L」か「dL」をうめましょう。



ぎゅうにゆうパック

1



コップの^{はんぶん}半分ちよつと

1



大きいペットボトル

2